



ESTADO DO CEARÁ  
SECRETARIA DA SEGURANÇA PÚBLICA E DEFESA SOCIAL  
COLÉGIO MILITAR DO CORPO DE BOMBEIROS  
ESCRITORA RACHEL DE QUEIROZ

(CRIADO PELA LEI 12.999 DE 14 DE JANEIRO DE 2000)




PROCESSO SELETIVO 2017 – 1º ANO FUNDAMENTAL  
MATEMÁTICA

**1ª QUESTÃO**

Em cada item vamos fazer o que se pede.

- a) Ajude o bezerrinho a encontrar sua mamãe passando pelo caminho com uma sequência de 10 e 10. (2 scores)





ESTADO DO CEARÁ  
SECRETARIA DA SEGURANÇA PÚBLICA E DEFESA SOCIAL  
COLÉGIO MILITAR DO CORPO DE BOMBEIROS  
ESCRITORA RACHEL DE QUEIROZ



(CRIADO PELA LEI 12.999 DE 14 DE JANEIRO DE 2000)

- b) Circule o numeral correspondente a quantidade de elementos de cada conjunto. (2 escores)

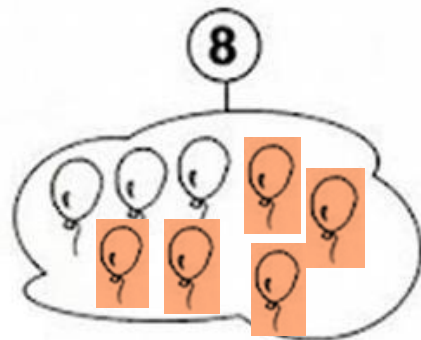



2 - 7 - 4 - **5**




8 - 6 - **9** - 7

- c) Complete os conjuntos para que fique com a quantidade do numeral. (2 escores)



- d) Veja o conjunto e coloque no quadradinho o número de elementos e escreva a quantidade na linha. (2 escores)







ESTADO DO CEARÁ  
SECRETARIA DA SEGURANÇA PÚBLICA E DEFESA SOCIAL  
COLÉGIO MILITAR DO CORPO DE BOMBEIROS  
ESCRITORA RACHEL DE QUEIROZ



(CRIADO PELA LEI 12.999 DE 14 DE JANEIRO DE 2000)

e) Conte os elementos de cada conjunto, depois use o sinal de igual ou diferente entre os conjuntos. (2 scores)





$$5 = 5$$

$$6 \neq 3$$

**2ª QUESTÃO**

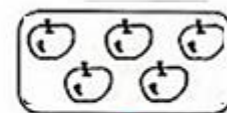
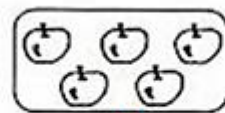

Em cada item, faça a adição dos conjuntos. (8 scores)

a)




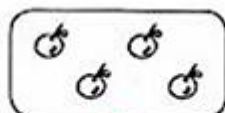

$$\underline{2} + \underline{3} = \underline{5}$$

b)



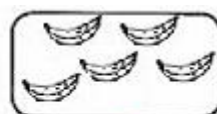
$$\underline{0} + \underline{5} = \underline{5}$$

c)



$$\underline{1} + \underline{4} = \underline{5}$$

d)



$$\underline{3} + \underline{2} = \underline{5}$$



ESTADO DO CEARÁ  
SECRETARIA DA SEGURANÇA PÚBLICA E DEFESA SOCIAL  
COLÉGIO MILITAR DO CORPO DE BOMBEIROS  
ESCRITORA RACHEL DE QUEIROZ

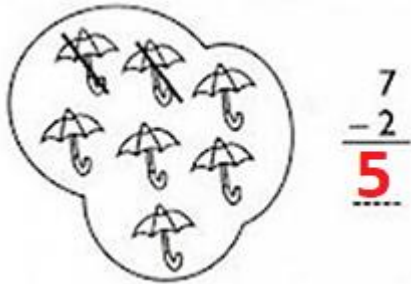


(CRIADO PELA LEI 12.999 DE 14 DE JANEIRO DE 2000)

**3ª QUESTÃO**

Observe os desenhos e realize a operação de subtração completando a conta.  
(8 scores)


a)



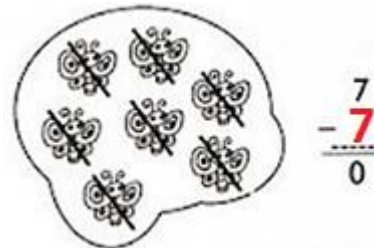
b)



c)



d)



**4ª QUESTÃO**

Realize a operação em cada quadro, de acordo com cada exemplo.

(9 scores)

|     |   |
|-----|---|
| + 2 |   |
| 2   | 4 |
| 3   | 5 |
| 1   | 3 |
| 0   | 2 |

|     |   |
|-----|---|
| - 1 |   |
| 5   | 4 |
| 3   | 2 |
| 4   | 3 |
| 2   | 1 |

|     |   |
|-----|---|
| + 3 |   |
| 0   | 3 |
| 1   | 4 |
| 2   | 5 |
| 3   | 6 |







ESTADO DO CEARÁ  
SECRETARIA DA SEGURANÇA PÚBLICA E DEFESA SOCIAL  
COLÉGIO MILITAR DO CORPO DE BOMBEIROS  
ESCRITORA RACHEL DE QUEIROZ



(CRIADO PELA LEI 12.999 DE 14 DE JANEIRO DE 2000)

b) Agora pinte as operações que foram representadas acima. (6 escores)

|             |             |             |
|-------------|-------------|-------------|
| $5 - 4 = 1$ | $7 - 6 = 1$ | $7 - 7 = 0$ |
| $7 - 3 = 4$ | $4 - 1 = 3$ | $7 - 4 = 3$ |
| $6 - 5 = 1$ | $7 - 5 = 2$ | $7 - 0 = 7$ |
| $7 - 1 = 6$ | $6 - 2 = 4$ | $7 - 2 = 5$ |

**7ª QUESTÃO**

Resolva as operações e depois circule o resultado ao lado. (14 escores)

a)

|   |   |   |   |   |   |   |   |
|---|---|---|---|---|---|---|---|
| $\begin{array}{r} 7 \\ + 2 \\ \hline 9 \end{array}$ | 9 | $\begin{array}{r} 3 \\ + 2 \\ \hline 5 \end{array}$ | 5 | $\begin{array}{r} 4 \\ + 2 \\ \hline 6 \end{array}$ | 6 | $\begin{array}{r} 4 \\ + 4 \\ \hline 8 \end{array}$ | 8 |
|---|---|---|---|---|---|---|---|

b)

|   |   |   |   |   |   |   |   |
|---|---|---|---|---|---|---|---|
| $\begin{array}{r} 6 \\ + 3 \\ \hline 9 \end{array}$ | 9 | $\begin{array}{r} 2 \\ + 6 \\ \hline 8 \end{array}$ | 8 | $\begin{array}{r} 8 \\ - 5 \\ \hline 3 \end{array}$ | 3 | $\begin{array}{r} 5 \\ - 4 \\ \hline 1 \end{array}$ | 1 |
|---|---|---|---|---|---|---|---|

c)

|             |   |             |   |             |   |
|-------------|---|-------------|---|-------------|---|
| $9 - 6 = 3$ | 3 | $5 - 0 = 5$ | 5 | $7 - 7 = 0$ | 0 |
|-------------|---|-------------|---|-------------|---|

d)

|             |   |             |   |             |   |
|-------------|---|-------------|---|-------------|---|
| $8 - 4 = 4$ | 4 | $9 - 4 = 5$ | 5 | $6 - 5 = 1$ | 1 |
|-------------|---|-------------|---|-------------|---|



ESTADO DO CEARÁ  
SECRETARIA DA SEGURANÇA PÚBLICA E DEFESA SOCIAL  
COLÉGIO MILITAR DO CORPO DE BOMBEIROS  
ESCRITORA RACHEL DE QUEIROZ



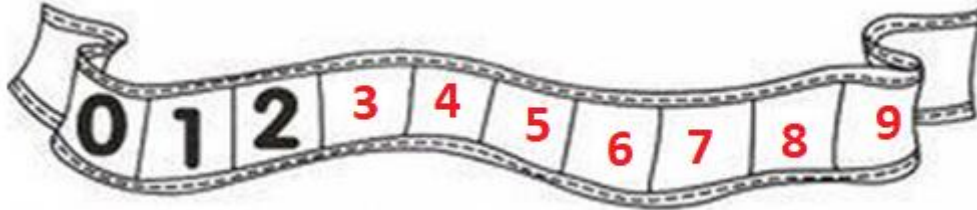
(CRIADO PELA LEI 12.999 DE 14 DE JANEIRO DE 2000)

**8ª QUESTÃO**

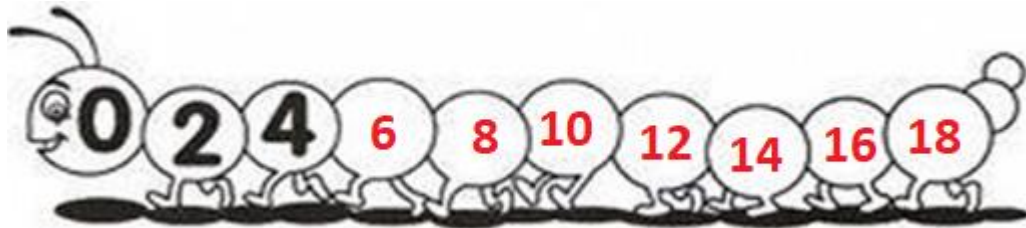
Complete as sequências abaixo de acordo com o que é pedido.

(21 escores)

a) De 1 em 1.



b) De 2 em 2.



c) De 3 em 3.





ESTADO DO CEARÁ  
SECRETARIA DA SEGURANÇA PÚBLICA E DEFESA SOCIAL  
COLÉGIO MILITAR DO CORPO DE BOMBEIROS  
ESCRITORA RACHEL DE QUEIROZ



(CRIADO PELA LEI 12.999 DE 14 DE JANEIRO DE 2000)

**9ª QUESTÃO**

Em cada item responda ao que se pede. (2 escores)

- a) Judite está fazendo ginástica nos quadros abaixo. Em cada quadro, marque a mão esquerda de Judite.



- b) Quem está segurando a bandeira com a mão direita? Marque a resposta correta. (1 escore)



O MENINO.  
 A MENINA.

- c) Pinte as flores que estão viradas para o lado esquerdo. (2 escores)





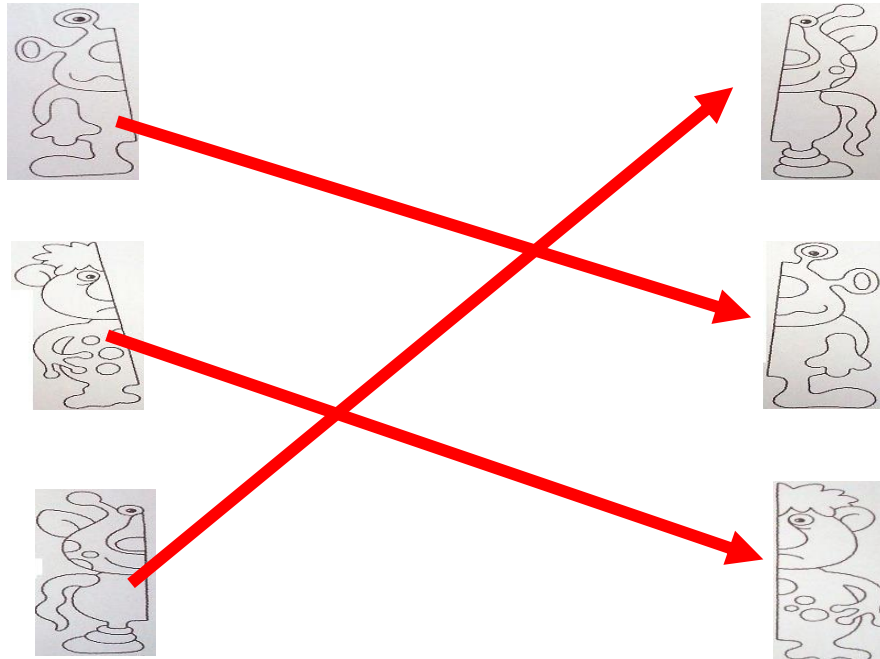


ESTADO DO CEARÁ  
SECRETARIA DA SEGURANÇA PÚBLICA E DEFESA SOCIAL  
COLÉGIO MILITAR DO CORPO DE BOMBEIROS  
ESCRITORA RACHEL DE QUEIROZ



(CRIADO PELA LEI 12.999 DE 14 DE JANEIRO DE 2000)

d) Com uma linha, ligue as metades iguais dos monstros. (3 scores)



**10ª QUESTÃO**

Em cada item responda ao que é perguntado. (12 scores)

a) Escreva o número que vem antes e o número que vem depois.





ESTADO DO CEARÁ  
SECRETARIA DA SEGURANÇA PÚBLICA E DEFESA SOCIAL  
COLÉGIO MILITAR DO CORPO DE BOMBEIROS  
ESCRITORA RACHEL DE QUEIROZ

(CRIADO PELA LEI 12.999 DE 14 DE JANEIRO DE 2000)




- b) Na figurinha abaixo, faça o que se pede depois responda os itens c e d.  
(14 escores)

PINTE OS QUADRADOS DE AMARELO

PINTE OS CÍRCULOS DE VERDE

PINTE OS TRIÂNGULOS DE AZUL

PINTE OS RETÂNGULOS DE VERMELHO



- c) o desenho tem quantos quadrados: **2** (1 escore)  
d) o desenho tem quantos círculos: **10** (1 escore)



ESTADO DO CEARÁ  
SECRETARIA DA SEGURANÇA PÚBLICA E DEFESA SOCIAL  
COLÉGIO MILITAR DO CORPO DE BOMBEIROS  
ESCRITORA RACHEL DE QUEIROZ

(CRIADO PELA LEI 12.999 DE 14 DE JANEIRO DE 2000)



LEIA O TEXTO

EU FUI À FEIRA  
EU FUI À FEIRA  
NÃO SABIA O QUE COMPRAR,  
COMPRI UMA CADEIRA  
PARA MEU AMIGO SE SENTAR



MEU AMIGO SE SENTOU,  
E A CADEIRA ESBORRACHOU!  
COITADINHO DO MEU AMIGO  
FOI PARAR NO CORREDOR!

11. QUAL OBJETO FOI COMPRADO? (2 ESCORES)

CADEIRA

12. ONDE FOI COMPRADO O OBJETO? (2 ESCORES)

FEIRA

13. PARA QUEM FOI COMPRADO O OBJETO? (2 ESCORES)

- ( ) PARA A VOVÓ  
(  ) PARA O AMIGO  
( ) PARA O TIO

14. LEIA AS FRASES E MONTE UMA PEQUENA HISTÓRIA SOBRE O GATO MIMI (12 escores)

|                                   |                                       |
|-----------------------------------|---------------------------------------|
| TEM UM GATO<br>E GOSTA DE CARINHO | MIMI É MUITO DENGOSO<br>NA MINHA CASA |
| ELE VIVE DORMINDO                 | O NOME DELE É MIMI                    |

NA MINHA CASA TEM UM GATO. O NOME DELE É MIMI. MIMI É MUITO DENGOSO E GOSTA DE CARINHO. ELE VIVE DORMINDO. **ACEITA OUTRAS MONTAGENS, DESDE QUE TENHA COERÊNCIA**

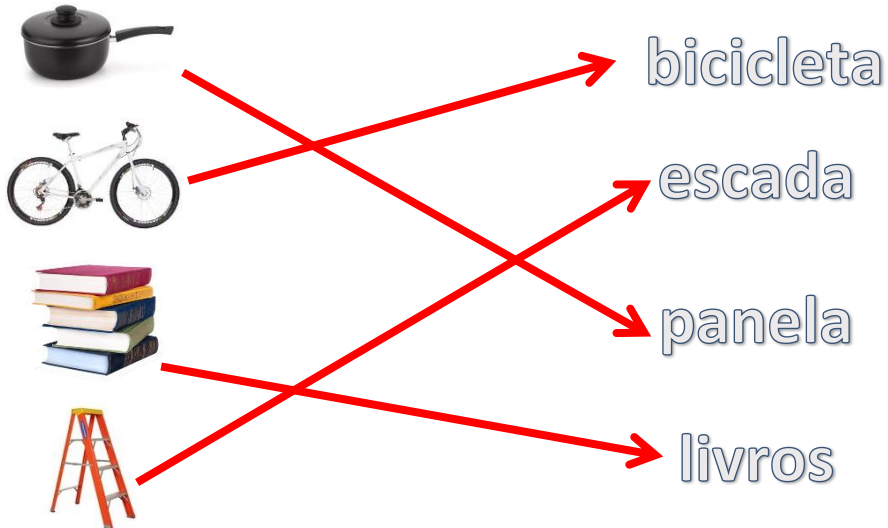


ESTADO DO CEARÁ  
SECRETARIA DA SEGURANÇA PÚBLICA E DEFESA SOCIAL  
COLÉGIO MILITAR DO CORPO DE BOMBEIROS  
ESCRITORA RACHEL DE QUEIROZ



(CRIADO PELA LEI 12.999 DE 14 DE JANEIRO DE 2000)

15. LIGUE O OBJETO A SEU RESPECTIVO NOME (4 scores)



16. PINTE OU CIRCULE SOMENTE AS VOGAIS (5 scores)

|   |   |   |   |   |   |
|---|---|---|---|---|---|
| Ⓐ | B | C | D | Ⓔ | F |
| G | H | Ⓘ | J | K | L |
| M | N | ⓪ | P | Q | R |
| S | T | Ⓤ | V | W | X |
| Y | Z |   |   |   |   |





ESTADO DO CEARÁ  
SECRETARIA DA SEGURANÇA PÚBLICA E DEFESA SOCIAL  
COLÉGIO MILITAR DO CORPO DE BOMBEIROS  
ESCRITORA RACHEL DE QUEIROZ



(CRIADO PELA LEI 12.999 DE 14 DE JANEIRO DE 2000)

17. COMPLETE AS LACUNAS COM AS CONSOANTES (8 scores)



B O L A

A Q U A R I O

U V A

S O F Á

18. COMPLETE AS FIGURAS DE ACORDO COM A ORDEM DAS LETRAS DO ALFABETO QUE VEM ANTES, ENTRE E DEPOIS. (9 scores)



F



Q



S



C



M



O



U





H



J

19. OBSERVE O OBJETO, ESCREVA SEU NOME, DIVIDA AS SÍLABAS E INFORME A QUANTIDADE DE SÍLABAS (14 scores)



| OBJETO  | ESCRITA | DIVIDA AS SÍLABAS | TOTAL DE SÍLABAS |
|---|---------|-------------------|------------------|
|  | escada  | Es-ca-da          | 3                |
|  | barata  | ba-ra-ta          | 3                |



ESTADO DO CEARÁ  
SECRETARIA DA SEGURANÇA PÚBLICA E DEFESA SOCIAL  
COLÉGIO MILITAR DO CORPO DE BOMBEIROS  
ESCRITORA RACHEL DE QUEIROZ



(CRIADO PELA LEI 12.999 DE 14 DE JANEIRO DE 2000)

|   |               |                 |   |
|---|---------------|-----------------|---|
|  | <i>mala</i>   | <i>ma-la</i>    | 2 |
|  | <i>tomada</i> | <i>to-ma-da</i> | 3 |

20. LIGUE AS LETRAS IGUAIS (7 escores)

**MAIÚSCULA**

**MINÚSCULA**

