



## PROVA DE PORTUGUÊS 1º ANO FUNDAMENTAL

1ª QUESTÃO

15 escores [   ]

OBSERVE O QUADRO ABAIXO E MARQUE A OPÇÃO ONDE TEM AS LETRAS QUE ESTÃO FALTANDO:

A B C D E F G H J K L  
M N O Q R S T U W X Y Z

- A. I - P - V  
B. I - Q - W  
C. J - P - Z  
D. I - P - Y

2ª QUESTÃO

30 escores [   ]

OBSERVE A FIGURA ABAIXO E ESCREVA SOBRE O QUE ESTÁ ACONTECENDO:



(subjeto) Três crianças brincando de pular corda / Pular  
corda. / Pulando. / Brincando. / etc.

Serão aceitas outras variações desde que não haja erros ortográficos, segmentação e aglutinação.





ESTADO DO CEARÁ  
SECRETARIA DE SEGURANÇA PÚBLICA E DEFESA SOCIAL  
CORPO DE BOMBEIROS MILITAR  
COLÉGIO MILITAR ESCRITORA RACHEL DE QUEIROZ



3ª QUESTÃO

5 escores [ ]

MARQUE A OPÇÃO ONDE ENCONTRAMOS A SÍLABA FINAL DO NOME DESTA PERSONAGEM :



- A. BEI
- B. BOM
- C. BOMR
- D. RO

4ª QUESTÃO

20 escores [ ]

MARQUE A OPÇÃO EM QUE AS PALAVRAS APARECEM EM ORDEM ALFABÉTICA:

- A. LEITE, MEL, AÇÚCAR, BICARBONATO, FARINHA DE TRIGO, CRAVO-DA-ÍNDIA, CANELA
- B. AÇÚCAR, BICARBONATO, CANELA, CRAVO-DA-ÍNDIA, CANELA, MEL
- C. AÇÚCAR, LEITE, BICARBONATO, CRAVO-DA-ÍNDIA, CANELA, MEL
- D. BICARBONATO, LEITE, MEL, AÇÚCAR, CRAVO-DA-ÍNDIA, CANELA, FARINHA DE TRIGO

(será considerado apenas a primeira letra)





5ª QUESTÃO

20 escores [ ]

LEIA O TEXTO E RESPONDA:

JANJÃO

ELE VIVE EM UM RIO BEM DISTANTE DAQUI.  
DE OLHOS BEM ABERTOS EM QUEM APARECE ALI.  
SUA BOCA É TÃO GRANDE QUE ASSUSTA O MAIS CORAJOSO DOS GUERREIROS.  
MAS JANJÃO É DA PAZ, SÓ QUER MESMO É SOB O SOL FICAR.

DE ACORDO COM O TEXTO JANJÃO É?

- A. UM BOI
- B. UM ELEFANTE
- C. UM JACARÉ
- D. UM JABUTI

Interpretação e raciocínio lógico conforme o edital.

6ª QUESTÃO

11 escores [ ]

PINTE AS SÍLABAS QUE FORMAM OS NOMES DOS DESENHOS:

1		BI	TA	CI	TE	RI	TU
1		BO	RO	U	RU	LO	BU
1		PI	TO	JA	COR	TA	DA

	BA	A	TA	BA	CA	TE	2
--	----	---	----	----	----	----	---

	A	BA	PA	CA	DA	XI	2
--	---	----	----	----	----	----	---

	LA	BO	GE	LO	CO	TI	1
--	----	----	----	----	----	----	---

	GA	CA	BO	BA	TA	NA	1
--	----	----	----	----	----	----	---

	JA	PA	BO	BA	CA	NÉ	1
--	----	----	----	----	----	----	---

	BU	RA	ZI	GALI	NA	1
--	----	----	----	------	----	---

A distribuição de escore conforme o grau de dificuldade.

Serão aceitos outros tipos de assinalações (como a marcada no item do “abacate”) desde que o comando da questão seja respeitado e que corresponda a figura ao lado do item.





ESTADO DO CEARÁ  
SECRETARIA DE SEGURANÇA PÚBLICA E DEFESA SOCIAL  
CORPO DE BOMBEIROS MILITAR  
COLÉGIO MILITAR ESCRITORA RACHEL DE QUEIROZ



7ª QUESTÃO

Cada sílaba 01 escore

33 escres [   ]

JUNTE AS SÍLABAS E FORME AS PALAVRAS UTILIZANDO A NUMERAÇÃO:



RA	1	PO	2	CA	3
VI	4	GA	5	GU	6
LI	7	NA	8	ME	9
SA	10	SO	11	CO	12
PE	13	RI	14	SI	15
GO	16	LO	17	TA	18
RO	19	MU	20	VA	21

3 - 10 - 12

CASACO

5 - 11 - 7 - 8

GASOLINA

4 - 15 - 18

VI SI TA

6 - 17 - 11

GULOSO

13 - 14 - 16 - 11

PERIGOSO

20 - 15 - 3

MUSICA

19 - 10

ROSA

9 - 10

MESA

21 - 11

VASO

1 - 2 - 10

RAPOSA

13 - 11

PESO

3 - 10

CASA





ESTADO DO CEARÁ  
SECRETARIA DE SEGURANÇA PÚBLICA E DEFESA SOCIAL  
CORPO DE BOMBEIROS MILITAR  
COLÉGIO MILITAR ESCRITORA RACHEL DE QUEIROZ









8ª QUESTÃO

31 escores [ ]

Cada letra um escore

DESCUBRA AS PALAVRAS ESCONDIDAS.





ESTADO DO CEARÁ  
SECRETARIA DE SEGURANÇA PÚBLICA E DEFESA SOCIAL  
CORPO DE BOMBEIROS MILITAR  
COLÉGIO MILITAR ESCRITORA RACHEL DE QUEIROZ



9ª QUESTÃO

17 escores [ ]

COMPLETE O ALFABETO COM AS LETRAS QUE ESTÃO FALTANDO:

Cada letra um escore

A	B	C	D	E	F	G	H	I	J	K	L	M	
N	O	P	Q	R	S	T	U	V	W	X	Y	Z	

10ª QUESTÃO

14 escores [ ]

PINTE O QUADRADO QUE CONTÉM O NOME DA FIGURA E ESCREVA O NOME NO ESPAÇO EM BRANCO:

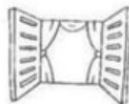
01 escore para a pintura  
01 escore para o nome



SAPATO

SACOLA

SACOLA



PANELA

JANELA

JANELA



MOTO

BOTO

MOTO



FACA

VACA

VACA



MALA

LATA

MALA



UVA

LUVA

LUVA



DADO

DEDO

DADO

Serão aceitos outros tipos de assinalações (outras cores, marcações, etc) desde que o comando da questão seja respeitado.





ESTADO DO CEARÁ  
SECRETARIA DE SEGURANÇA PÚBLICA E DEFESA SOCIAL  
CORPO DE BOMBEIROS MILITAR  
COLÉGIO MILITAR ESCRITORA RACHEL DE QUEIROZ



PROVA DE MATEMÁTICA 1º ANO FUNDAMENTAL



01 score por número

11ª QUESTÃO

15 scores [   ]

CONTE QUANTOS CARRINHOS TEM EM CADA LINHA E PONHA O NUMERAL NO QUADRADO AO LADO:

	10
	9
	8
	7
	10
	9
	5
	7
	10
	8
	9
	7
	10
	6
	9





ESTADO DO CEARÁ  
SECRETARIA DE SEGURANÇA PÚBLICA E DEFESA SOCIAL  
CORPO DE BOMBEIROS MILITAR  
COLÉGIO MILITAR ESCRITORA RACHEL DE QUEIROZ

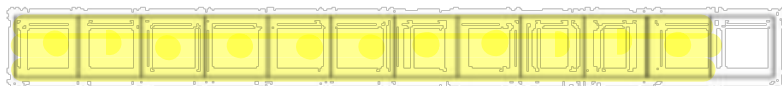
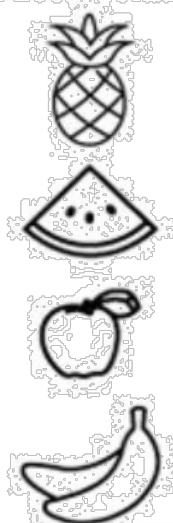



12ª QUESTÃO

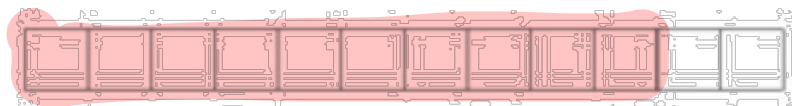
8 scores [   ]

REPRESENTE A QUANTIDADE DE FRUTAS CONTIDAS NA IMAGEM PINTANDO OS QUADRINHOS. EM SEGUIDA COLOQUE O NUMERAL CORRESPONDENTE NO QUADRO .

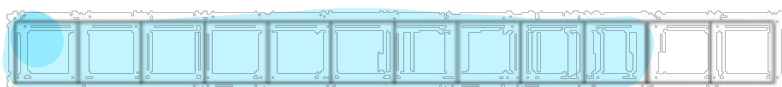
01 score para pintura  
01 score para o número



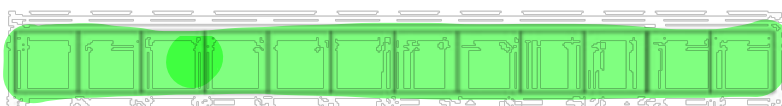
8



10



5



12

A imagem cobrada é a mesma da apresentada no quadro, não gerando, portanto, dúvidas. É imprescindível salientar que o gabarito é um documento orientador de correção e que as pinturas feitas neles são utilizadas para orientar o corretor.







ESTADO DO CEARÁ  
SECRETARIA DE SEGURANÇA PÚBLICA E DEFESA SOCIAL  
CORPO DE BOMBEIROS MILITAR  
COLÉGIO MILITAR ESCRITORA RACHEL DE QUEIROZ



13ª QUESTÃO

36 escores [    ]

FAÇA AS CONTINHAS:

01 escore por conta

$$\begin{array}{r} 1 \\ + 1 \\ \hline 2 \end{array}$$

$$\begin{array}{r} 1 \\ + 2 \\ \hline 3 \end{array}$$

$$\begin{array}{r} 1 \\ + 3 \\ \hline 4 \end{array}$$

$$\begin{array}{r} 1 \\ + 4 \\ \hline 5 \end{array}$$

$$\begin{array}{r} 1 \\ + 5 \\ \hline 6 \end{array}$$

$$\begin{array}{r} 1 \\ + 6 \\ \hline 7 \end{array}$$

$$\begin{array}{r} 1 \\ + 8 \\ \hline 9 \end{array}$$

$$\begin{array}{r} 1 \\ + 9 \\ \hline 10 \end{array}$$

$$\begin{array}{r} 0 \\ + 10 \\ \hline 10 \end{array}$$

$$\begin{array}{r} 2 \\ + 1 \\ \hline 3 \end{array}$$

$$\begin{array}{r} 2 \\ + 2 \\ \hline 4 \end{array}$$

$$\begin{array}{r} 2 \\ + 3 \\ \hline 5 \end{array}$$

$$\begin{array}{r} 2 \\ + 5 \\ \hline 7 \end{array}$$

$$\begin{array}{r} 2 \\ + 6 \\ \hline 8 \end{array}$$

$$\begin{array}{r} 2 \\ + 7 \\ \hline 9 \end{array}$$

$$\begin{array}{r} 2 \\ + 8 \\ \hline 10 \end{array}$$

$$\begin{array}{r} 3 \\ + 0 \\ \hline 3 \end{array}$$

$$\begin{array}{r} 3 \\ + 1 \\ \hline 4 \end{array}$$

$$\begin{array}{r} 3 \\ + 3 \\ \hline 6 \end{array}$$

$$\begin{array}{r} 3 \\ + 4 \\ \hline 7 \end{array}$$

$$\begin{array}{r} 3 \\ + 5 \\ \hline 8 \end{array}$$

$$\begin{array}{r} 3 \\ + 6 \\ \hline 9 \end{array}$$

$$\begin{array}{r} 3 \\ + 7 \\ \hline 10 \end{array}$$

$$\begin{array}{r} 4 \\ + 1 \\ \hline 5 \end{array}$$

$$\begin{array}{r} 4 \\ + 3 \\ \hline 7 \end{array}$$

$$\begin{array}{r} 4 \\ + 4 \\ \hline 8 \end{array}$$

$$\begin{array}{r} 4 \\ + 5 \\ \hline 9 \end{array}$$

$$\begin{array}{r} 4 \\ + 6 \\ \hline 10 \end{array}$$

$$\begin{array}{r} 5 \\ + 1 \\ \hline 6 \end{array}$$

$$\begin{array}{r} 5 \\ + 2 \\ \hline 7 \end{array}$$

$$\begin{array}{r} 5 \\ + 4 \\ \hline 9 \end{array}$$

$$\begin{array}{r} 5 \\ + 5 \\ \hline 10 \end{array}$$

$$\begin{array}{r} 6 \\ + 1 \\ \hline 7 \end{array}$$

$$\begin{array}{r} 6 \\ + 2 \\ \hline 8 \end{array}$$

$$\begin{array}{r} 6 \\ + 3 \\ \hline 9 \end{array}$$

$$\begin{array}{r} 6 \\ + 4 \\ \hline 10 \end{array}$$





ESTADO DO CEARÁ  
SECRETARIA DE SEGURANÇA PÚBLICA E DEFESA SOCIAL  
CORPO DE BOMBEIROS MILITAR  
COLÉGIO MILITAR ESCRITORA RACHEL DE QUEIROZ



14ª QUESTÃO

24 escores [    ]

ESCREVA OS NÚMEROS QUE ESTÃO FALTANDO NA SEQUÊNCIA :

01 escore por número

45	46	47
----	----	----

7	8	9
---	---	---

24	25	26
----	----	----

35	36	37
----	----	----

17	18	19
----	----	----

14	15	16
----	----	----

25	26	27
----	----	----

46	47	48
----	----	----

42	43	44
----	----	----

14	15	16
----	----	----

30	31	32
----	----	----

74	NULA	76
----	------	----

11	12	13
----	----	----

67	NULA	69
----	------	----

63	NULA	65
----	------	----

12	13	14
----	----	----

43	44	45
----	----	----

14	15	16
----	----	----

Serão concedidos os escores dos itens anulados.





ESTADO DO CEARÁ  
SECRETARIA DE SEGURANÇA PÚBLICA E DEFESA SOCIAL  
CORPO DE BOMBEIROS MILITAR  
COLÉGIO MILITAR ESCRITORA RACHEL DE QUEIROZ



15ª QUESTÃO

05 escores [   ]

FAÇA AS CONTAS E PINTE CONFORME O RESULTADO:

1 - AZUL / 2 - VERMELHO / 3 - AMARELO / 4 - MARROM / 5 - ROSA

01 escore por cada cor

4-1=3

4-2=2

3-1=2

1+1=2

5-3=2

1+4=5

2+3=5

4+1=5

5-1=4

2+2=4

3+1=4

5-4=1

3-2=1

4-3=1

2-1=1





ESTADO DO CEARÁ  
SECRETARIA DE SEGURANÇA PÚBLICA E DEFESA SOCIAL



COLÉGIO MILITAR  
ESCRITORA RACHEL DE QUEIROZ

Apesar da imagem no gabarito orientador estar de difícil leitura, foi verificado que esta questão estava legível e facilmente compreensível no papel em que foi realizado a prova.

16ª QUESTÃO

49 escores [ ]

FAÇA AS CONTAS.

01 escore por conta

$$\begin{array}{r} 3 \\ + 2 \\ \hline 5 \end{array}$$

$$\begin{array}{r} 2 \\ - 1 \\ \hline 1 \end{array}$$

$$\begin{array}{r} 6 \\ + 2 \\ \hline 8 \end{array}$$

$$\begin{array}{r} 4 \\ + 1 \\ \hline 5 \end{array}$$

$$\begin{array}{r} 7 \\ - 4 \\ \hline 3 \end{array}$$

$$\begin{array}{r} 1 \\ + 1 \\ \hline 2 \end{array}$$

$$\begin{array}{r} 7 \\ + 1 \\ \hline 8 \end{array}$$

$$\begin{array}{r} 5 \\ + 1 \\ \hline 6 \end{array}$$

$$\begin{array}{r} 8 \\ + 1 \\ \hline 9 \end{array}$$

$$\begin{array}{r} 3 \\ - 1 \\ \hline 2 \end{array}$$

$$\begin{array}{r} 4 \\ - 3 \\ \hline 1 \end{array}$$

$$\begin{array}{r} 5 \\ - 2 \\ \hline 3 \end{array}$$

$$\begin{array}{r} 6 \\ - 3 \\ \hline 3 \end{array}$$

$$\begin{array}{r} 3 \\ + 4 \\ \hline 7 \end{array}$$

$$\begin{array}{r} 2 \\ + 1 \\ \hline 3 \end{array}$$

$$\begin{array}{r} 9 \\ - 2 \\ \hline 7 \end{array}$$

$$\begin{array}{r} 3 \\ + 4 \\ \hline 7 \end{array}$$

$$\begin{array}{r} 7 \\ - 6 \\ \hline 1 \end{array}$$

$$\begin{array}{r} 5 \\ - 1 \\ \hline 4 \end{array}$$

$$\begin{array}{r} 8 \\ - 1 \\ \hline 7 \end{array}$$

$$\begin{array}{r} 7 \\ - 4 \\ \hline 3 \end{array}$$

$$\begin{array}{r} 2 \\ - 1 \\ \hline 1 \end{array}$$

$$\begin{array}{r} 1 \\ + 2 \\ \hline 3 \end{array}$$

$$\begin{array}{r} 8 \\ - 3 \\ \hline 5 \end{array}$$

$$\begin{array}{r} 8 \\ - 5 \\ \hline 3 \end{array}$$

$$\begin{array}{r} 7 \\ - 6 \\ \hline 1 \end{array}$$

$$\begin{array}{r} 9 \\ - 4 \\ \hline 5 \end{array}$$

$$\begin{array}{r} 2 \\ + 6 \\ \hline 8 \end{array}$$

$$\begin{array}{r} 5 \\ - 2 \\ \hline 3 \end{array}$$

$$\begin{array}{r} 1 \\ + 8 \\ \hline 9 \end{array}$$

$$\begin{array}{r} 5 \\ + 1 \\ \hline 6 \end{array}$$

$$\begin{array}{r} 7 \\ - 3 \\ \hline 4 \end{array}$$

$$\begin{array}{r} 1 \\ + 4 \\ \hline 5 \end{array}$$

$$\begin{array}{r} 6 \\ - 1 \\ \hline 5 \end{array}$$

$$\begin{array}{r} 4 \\ + 5 \\ \hline 9 \end{array}$$

$$\begin{array}{r} 5 \\ - 3 \\ \hline 2 \end{array}$$

$$\begin{array}{r} 6 \\ - 3 \\ \hline 3 \end{array}$$

$$\begin{array}{r} 1 \\ + 4 \\ \hline 5 \end{array}$$

$$\begin{array}{r} 7 \\ - 1 \\ \hline 6 \end{array}$$

$$\begin{array}{r} 6 \\ - 3 \\ \hline 3 \end{array}$$

$$\begin{array}{r} 2 \\ + 4 \\ \hline 6 \end{array}$$

$$\begin{array}{r} 6 \\ - 5 \\ \hline 1 \end{array}$$

$$\begin{array}{r} 5 \\ + 3 \\ \hline 8 \end{array}$$

$$\begin{array}{r} 9 \\ - 8 \\ \hline 1 \end{array}$$

$$\begin{array}{r} 6 \\ - 5 \\ \hline 1 \end{array}$$

$$\begin{array}{r} 5 \\ - 3 \\ \hline 2 \end{array}$$

$$\begin{array}{r} 2 \\ - 1 \\ \hline 1 \end{array}$$

$$\begin{array}{r} 4 \\ - 3 \\ \hline 1 \end{array}$$

$$\begin{array}{r} 5 \\ + 3 \\ \hline 8 \end{array}$$





ESTADO DO CEARÁ  
SECRETARIA DE SEGURANÇA PÚBLICA E DEFESA SOCIAL  
CORPO DE BOMBEIROS MILITAR  
COLÉGIO MILITAR ESCRITORA RACHEL DE QUEIROZ



17ª QUESTÃO

14 escores [ ]

FAÇA AS CONTAS, COMPLETANDO OS ESPAÇOS EM BRANCO:

**NULLA**

3	+	2	=	5	4	+	4	=	8
	+				+				
	1				5			6	
	=				=			+	
3		6	+	3	=	9		2	
+				+				=	
2				4	+	4	=	8	
=				=				+	
5	+	2	=	7	5	+	2	=	7
	+				=			+	
	6	+	NULLA	=	9			4	
								=	
								6	

**NULLA**





ESTADO DO CEARÁ  
SECRETARIA DE SEGURANÇA PÚBLICA E DEFESA SOCIAL  
CORPO DE BOMBEIROS MILITAR  
COLÉGIO MILITAR ESCRITORA RACHEL DE QUEIROZ



18ª QUESTÃO




30 escores [    ]

ESCREVA QUANTAS FIGURAS HÁ EM CADA FORMA :

	<u>  1  </u>	3
	<u>  3  </u>	3
	<u>  4  </u>	3
	<u>  4  </u>	3

	<u>  1  </u>	3
	<u> 10 </u>	4
	<u>  5  </u>	3
	<u>  4  </u>	8

Distribuição dos escores pelo nível de complexidade.





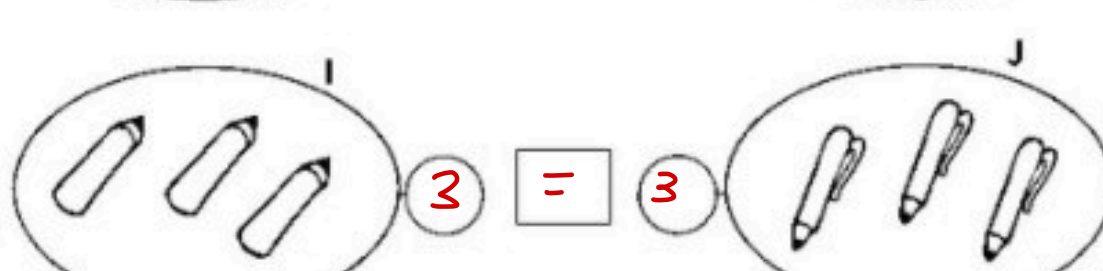
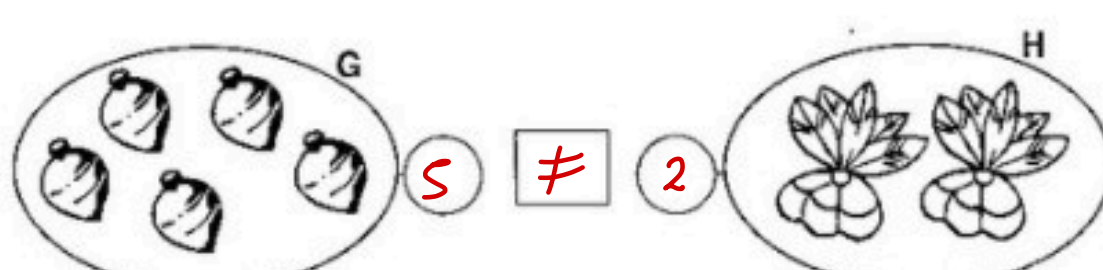
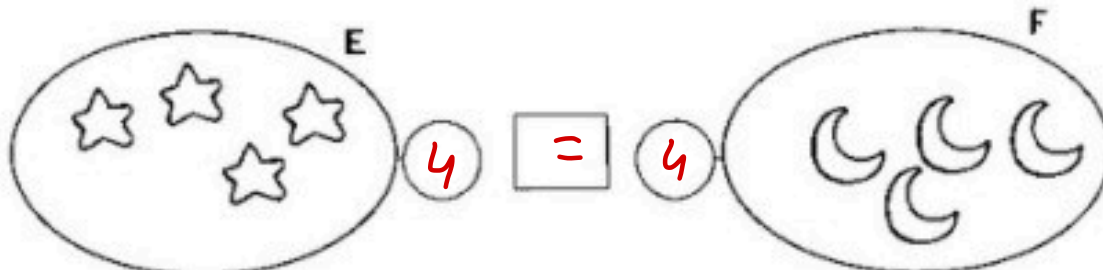


ESTADO DO CEARÁ  
SECRETARIA DE SEGURANÇA PÚBLICA E DEFESA SOCIAL  
CORPO DE BOMBEIROS MILITAR  
COLÉGIO MILITAR ESCRITORA RACHEL DE QUEIROZ



19ª QUESTÃO

12 escores [   ]

COLOQUE O NUMERAL CORRESPONDENTE NO CÍRCULO AO LADO DOS CONJUNTOS.  
ESCREVA O SINAL CORRETO DENTRO DOS QUADRINHOS:



3

3

3

3





ESTADO DO CEARÁ  
SECRETARIA DE SEGURANÇA PÚBLICA E DEFESA SOCIAL  
CORPO DE BOMBEIROS MILITAR  
COLÉGIO MILITAR ESCRITORA RACHEL DE QUEIROZ




20ª QUESTÃO

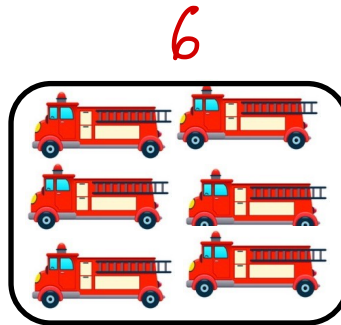
5 scores [ ]

ALBERT, MELO E WILSON POSSUEM UMA COLEÇÃO DE CARRINHOS. VEJA :

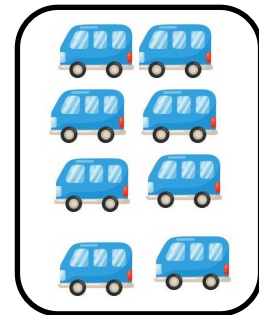
Albert 8



Melo



Wilson 8



COMPARANDO AS COLEÇÕES DE CARRINHOS DAS CRIANÇAS, PODEMOS AFIRMAR QUE:

- A) MELO POSSUI MAIS CARRINHOS. (não)
- B) ALBERT TEM MAIS CARRINHOS QUE WILSON. (igual)
- C) AS TRÊS CRIANÇAS POSSUEM A MESMA QUANTIDADE DE CARRINHOS. (não)
- D) ALBERT E WILSON POSSUEM 8 CARRINHOS CADA UM.

